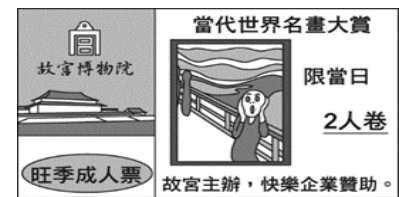


(C) 1 右圖中票根判斷，快樂企業贊助此活動的效益為下列何者？

- (A)安撫消費者的投訴 (B)能提升員工的福利  
 (C)可提升企業的形象 (D)促進民生經濟繁榮。




(D) 2. 2019 年初，國內爆發的缺蛋危機，導致雞蛋價格暴漲。請問：此現象將導致的結果，會與下列哪一情況相同？

- (A)百貨公司週年慶打五折，消費者蜂擁而至 (B)春節連假時的高鐵車票，購票者大排長龍  
 (C)天候佳，蔬果產量大增，婆婆媽媽都搶購 (D)三星蔥產地受颱風破壞，消費者改買洋蔥。

(D) 3. 因為資源稀少，人們必須面臨種種的選擇，這是經濟學的基本概念。附圖的遊戲場內有四名兒童，若他們想一起使用相同的遊戲設備，何者會出現資源稀少的問題？

- (A)碰碰車 (B)鞦韆 (C)蹺蹺板 (D)搖搖馬。



(B) 4. 下列是甲和乙兩人的對話：

甲：「最近這種水果很便宜，大概是因為今年沒有颱風侵襲，所以大豐收的緣故。」  
 乙：「我想應該前兩年這種水果價格很不錯，所以吸引農民大量種植的結果。」

上述兩人對「價格下跌」原因的討論，最主要是考量到下列哪一項的變化？

- (A)生產方式 (B)供給數量 (C)消費數量 (D)銷售利潤。

(A) 5 有一則商業新聞報導：「自行車旅遊、運動一向是歐洲人的最愛，廠商預見人口老化時代將至，積極搶攻電動自行車市場，讓退休老年人也能享受騎車樂趣。」

請問：上述報導當中，廠商生產電動自行車，是從哪一項選擇課題去思考？

- (A)為誰生產 (B)生產什麼 (C)如何生產 (D)由誰生產。

(C) 6 在全球關注公平正義的潮流下，下列何者是我國政府想要達成的目標？

- (A)注重環境保護，全面放棄經濟開發 (B)企業經營帶來稅收，必須全力支持  
 (C)經濟發展，不能犧牲弱勢者的權益 (D)經濟發展與環境保護可以同時做到。

(C) 7 對抗不景氣，消費者只好展開省錢大作戰。日本市面上出現可以自己 DIY 的修鞋組合，只要按照說明，先用砂紙磨光鞋跟表面，然後在外圍黏上塑膠片，這麼一來，就能看清楚鞋跟磨損的程度，接著在磨損的部位填上特殊的修補劑，放進熱水裡馬上變硬。5 分鐘後，拿下塑膠片，鞋底便修好了。請問：「DIY 修鞋組合」在經濟學上稱為什麼？

- (A)有形市場 (B)無形市場 (C)有形財貨 (D)無形勞務。

(D) 8 在缺乏競爭的市場中，下列何種是最可能出現的市場現象？

- (A)商品價格較低 (B)民眾對該商品的需求趨近於 0  
 (C)民眾可得到最優質的商品與最大可能的優惠 (D)廠商可獲得較高的利潤。

(B) 9 附圖內容顯示貨幣的何種功能？

- (A)交易媒介 (B)債務清償  
 (C)價值衡量 (D)價值儲存。



(D) 10 臺灣有一案例：一名憂鬱症患者病癒後，到某大企業應徵工作，此企業透過網路查出其有憂鬱症病史，因此要求他必須出具醫師證明『精神正常』方能報到；該病人接獲消息後非常難過，覺得自己的隱私和人格受到侵犯。上述案例顯示該企業忽略了何項原則？

- (A)機會成本 (B)比較利益 (C)需求法則 (D)企業社會責任。

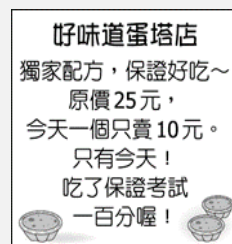
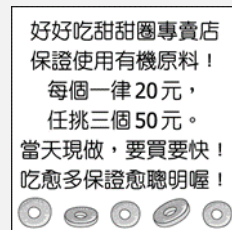
(B) 11 木柵國中校慶期間，園遊會販賣茶葉蛋一顆 12 元、米漢堡一個 50 元、花生冰棒一支 17 元。從上述的「12 元」、「50 元」、「17 元」，可以看出貨幣具有何種功能？

- (A)交易媒介 (B)價值衡量 (C)債務清償 (D)價值儲存。

背面尚有試題 請繼續作答

(D) 12 右圖是學校附近的兩家西點烘焙坊，為了吸引學生上門消費，分別發送的傳單。同學看到傳單後，分別作出以下反應，下列何者的描述最符合該地市場的經濟現況？

- (A)阿祥：「蛋塔店採用的是負向的金錢誘因」
- (B)浩子：「蛋塔在傳單發送前造成搶購風潮」
- (C)小嬌：「這種做法會妨礙自願交易的進行」
- (D)小霖：「交易市場由一隻看不見的手掌控」。



(A) 13 一間印刷工廠的設置，必須購買或租用土地，還要興建廠房、購買機器設備及原料，並聘用員工，這樣的過程所費不貲。如果設置一間印刷廠只為了印一本書，這本書的成本就相當於全部的工廠建置費用。如果印100本書，建置工廠的費用還是一樣的，至多增加一些紙張、油墨等材料的費用。

根據以上的敘述，生產者為了降低產品平均成本，最有效的方式為何？

- (A)大量生產
- (B)增加員工數量
- (C)提高員工素質
- (D)降低生產數量。

(B) 14 「電子貨幣」能作為當前通行的貨幣，最主要的原因為何？

- (A)清償債務
- (B)攜帶方便
- (C)以法令賦予其價值
- (D)具有延遲支付功能。

(D) 15 貨幣的出現使得市場交易更加便利，其出現是經過一連串的演進過程。關於貨幣演進的敘述，下列何者最為適切？

- (A)法定貨幣有數量不足、攜帶不便等缺點
- (B)硬幣與紙鈔的使用，有耗時費力的缺點
- (C)政府發行商品貨幣，並強制規定其價值
- (D)以物易物的交易方式缺乏價值衡量標準。