

台北市立木柵國中 112 學年度 第一學期 地理科八年級補考試題(題庫)

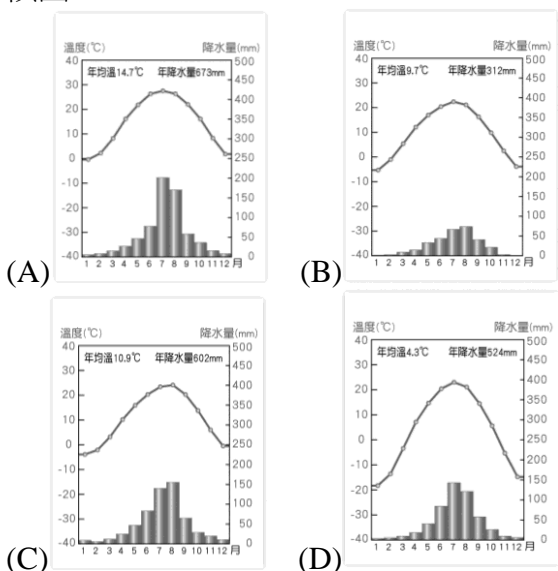
科目代碼 31

一、選擇：

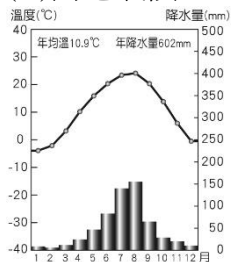
- ()下列何者並非四面環海的日本擁有的自然或人文特色？ (A)寒暖流交會，自古漁業發達 (B)冬季乾寒，多製造大量泡菜儲存 (C)早期引進中國的農耕技術、宗教等，融合原本的文化，創造出獨特的日本文化 (D)降雨量多於朝鮮半島。
- ()不論是求職或生活都只能看大財團的臉色，因為南韓國內生產毛額中有 45%是由三星、SK 等財團所支撐，SK 集團的經營範圍可以從通訊到紡織甚至是金融，因此南韓人的生活脫離不了財團。請問：上述財團對南韓帶來的潛在危機為何？ (A)社會福利支出受到財團擠壓 (B)人口老化速度增快 (C)財團經常受到政府的掌控 (D)國家經濟發展風險高。
- ()附圖為中國三級階梯地勢示意圖，中國地勢呈三級階梯，此地勢特徵造成的影響不包括下列何者？ (A)季風氣候盛行 (B)有利海洋水氣深入內陸 (C)河川多向東注入太平洋 (D)人口分布多集中東南半壁。



- ()漠河市位於黑龍江省，是中國最北的城市，有「中國北極」之稱。下列哪一張最可能是漠河市的氣候圖？



- ()附圖為中國北部區域某一都市的氣候圖。依據圖中資訊判斷，此都市屬於下列哪一種氣候類型？ (A)副熱帶季風氣候 (B)溫帶季風氣候 (C)草原氣候 (D)高地氣候。



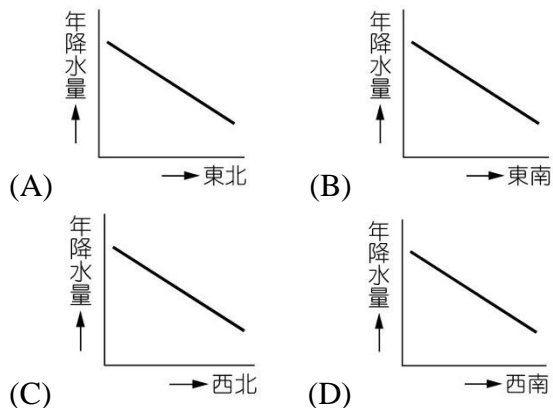
- ()位於日本北陸地區的白川鄉，有著 300 年歷史的合掌村聚落，以特殊的 A 字型屋頂建築聞名，有如童話屋的景觀，每年吸引國內外遊客前往參觀。請問：其屋頂造型，主要與當地的何種自然環境有關？

- (A)冬季多強風 (B)夏季降雨量多 (C)秋季多強颱風 (D)冬季多降雪。

- ()春季賞櫻是日本人民很重要的旅遊活動，附圖是日本氣象廳發表的各地櫻花開花季節預測數據，該數據的地理位置分布與下列何者最具相關性？ (A)海拔高度 (B)年降水量 (C)冬季均溫 (D)季風強度。

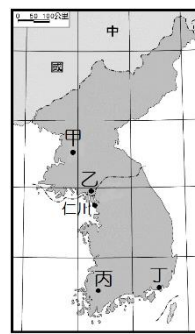


- ()受到距海遠近、季風風向等因素影響，中國降水的空間分布特徵最適合用下列哪一張圖來表示？



- ()下列是四位同學對「中國地勢三級階梯」的描述，其中哪一位同學說錯了？ (A)可羅：「最高階梯的高度最高，平均高度可達 4,000 公尺。」 (B)美美：「次高階梯位於最高階梯的東面和北面。」 (C)英一：「次高階梯包括塔里木盆地與黃土高原等地形。」 (D)冬冬：「最低階梯的主要地形是平原和高原，高度落差大。」

- ()開城工業區是北韓由南韓營運的工業區，該的設立，不單促進了兩韓展上的合作，報導指出，南韓製造業得以重生的重因為北韓工人只需要南韓一的薪資；而開城距離南心首爾只有 70 公里，距



境內一個經濟特區在經濟發該區亦是要推手。工人十分韓經濟中離航空樞

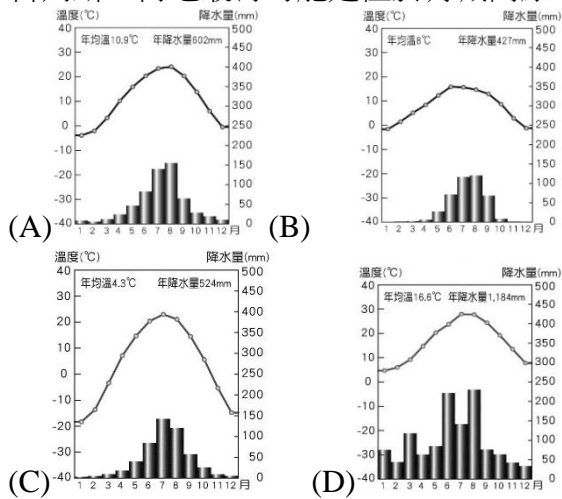
- 紐仁川更只有 50 公里，有助工業區內投資的公司快速地把產品送至世界各地。然而，運作期間因南北韓的關係變化，北韓政府多次單方面宣佈關閉該工業區。由上所述，開城工業區應位於附圖中何處？ (A)甲 (B)乙 (C)丙 (D)丁。

- ()朝鮮半島的聚落與農業發展主要分布於何處？ (A)西部與南部平原 (B)鴨綠江、圖們江一帶 (C)日本海沿岸 (D)太白山脈東部。

12. () 中國疆域遼闊，過去為了達到對外聯繫的目的而發展出各具特色、因地制宜的交通方式。請問：為了適應青藏高原「地勢高峻，地表崎嶇，氣候乾寒，空氣稀薄，多風暴」的環境特色，該地居民大多選擇何種交通工具來克服自然環境限制？ (A)馬 (B)驢 (C)犛牛 (D)駱駝。

13. () 若與廣東、上海地區相比，中國北部的環渤海經濟圈較少臺商聚集。請問：這是因為在工業發展上，環渤海經濟圈最明顯的優勢為下列何者，與多數臺商所從事產業設廠要素較為不符？ (A)原料豐富 (B)勞工便宜 (C)交通便利 (D)市場廣大。

14. () 下列為中國四個城市的氣候圖。請由圖中的資料判斷，何地最有可能是位於青藏高原的拉薩市？



15. () 「這個國家施行高壓獨裁統治，首都平壤是該國的第一大城。該國有煤、鐵等礦產，再加上鴨綠江豐沛的水力，奠定了工業發展的基礎。」請問：上文所描述的是下列哪一個國家？ (A)北韓 (B)南韓 (C)日本 (D)中國。

解答:

1-5
BDADB

6-10
DCCDB

11-15
ACABA