

臺北市立木柵國民中學 111 學年度第二學期八年級社會領域歷史科補考題庫

範圍：康軒版第四冊

【歷史科】選擇題 15 題

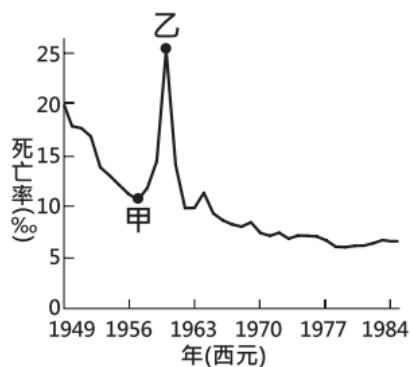
1. (C)以下是一位旅行者在上海的見聞：「上海的工廠地帶可以看到轟炸的痕跡，有來到了戰場的感覺。但是如果來到租界區，興盛的商業中心立即映入眼中。在此，歐、美國家的主要銀行林立，國民政府的官方銀行—中央銀行，以及中國銀行、交通銀行等仍然繁忙地繼續營業，處理租界區內法幣的發行與交易。」此人最可能是在下列何時參訪上海？ (A)1830 年代 (B)1890 年代 (C)1930 年代 (D)1990 年代。
2. (A)中國在某一個時期出現許多刊物，其中部分存在的時間很短，影響也不大，但是刊物名稱反映出當時的氣氛，例如：《新中國》、《婦女雜誌》、《科學》、《新婦女》等，請以此判斷，這些刊物的出版時間最可能在哪一個時期？ (A)新文化運動 (B)英法聯軍 (C)戊戌變法 (D)二次大戰。
3. (D)歷史老師在歷史課時提供中華民國成立的歷史文本，請同學分析武昌起事前後中國政治形勢的變化，請問哪一位同學說法符合史實？
 (A)小財：「孫中山獲得日本大量軍事支援以攻打滿清」
 (B)小育：「黃花岡之役已經澈底擊潰滿清勢力」
 (C)小筠：「中華民國成立之初，全部省分立刻宣布獨立」
 (D)小劭：「武昌革命利用保路運動，趁勢起事」。
4. (D)中國有位老農夫回憶：「當時煉鋼要超英趕美，因此人人將鍋、鏟全丟進煉鐵爐燒煉。因為上級交代蓋一條用來運鋼的道路，所以只好將鄭和墓塚的石頭拿去墊路基，但我們一直沒有煉出夠多的數量，讓卡車來載運。」上述情況最可能與下列何者有關？(A)改革開放 (B)文化大革命 (C)六四天安門事件 (D)大躍進。
5. (B)「在此次動亂中，民族文化飽受摧殘，孔子的墓碑被撞倒後徹底砸碎。……有位老幹部，為保護孔府門前石獅，冒險用木板將其罩住，並貼上『革命無罪，造反有理』的標語，終使石獅安然無恙。」上述最可能是在描述下列哪一事件的情況 (A)西安事變 (B)文化大革命 (C)六四天安門事件 (D)大躍進。
6. (D)友華在研究中國近代一項歷史事件，蒐集到四份相關資料如【表一】，其中有一份資料不慎受到汗損了。請問：受汗損的資料最有可能為下列何者？

資料一	1919 年 5 月 4 日北京的大學生至天安門廣場前聚集，高喊：「抗議日本、還我山東、內除國賊、外爭主權」等口號。
資料二	學生焚燬前外交部次長曹汝霖的住所，並毆傷前駐日公使章宗祥。
資料三	除學生罷課外，各界響應此活動，工人罷工、商人罷市。
資料四	[汗損資料]

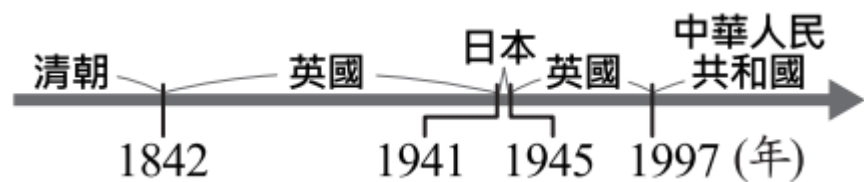
【表一】

- (A)政府為維護對日關係，落實二十一條要求 (B)政府為保護山東主權，宣布向日本開戰
 (C)政府派遣軍隊、坦克鎮壓示威遊行的學生 (D)政府代表拒絕在巴黎和會簽署對德和約。
7. (B)以民國初期袁世凱意圖稱帝，宣布將國號改為「中華帝國」，當時梁啟超在上海《大中華》月刊發表文章《異哉所謂國體問題者》極力反對，此文一出即引起全國各界強烈反響...。請問：關於袁世凱此人物的事蹟敘述何者正確？(A)在日本壓力下被迫接受巴黎和約的大部分內容 (B)當選大總統之後解散國會，廢除臨時約法 (C)五四運動時派軍鎮壓抗議的民眾們 (D)代表政府對德宣戰，參加第一次世界大戰。
8. (B)有一份文件記載：「我三大盟國此次進行戰爭之目的，在於制止及懲罰日本侵略。……三國之宗旨在剝奪日本在太平洋地區所奪得或占領之一切島嶼，使日本所竊取於中國之領土，如滿洲、臺灣、澎湖群島等歸還中華民國。」上述文件與哪一歷史事件相關？
 (A)西安事變 (B)開羅會議 (C)雅爾達會議 (D)馬歇爾來華調停。
9. (D)時常氣死的歷史老師在課堂上要同學以中日戰爭「八年抗戰」這段時期的歷史為背景，進行角色扮演。下列哪一位同學應是扮演當時「國民政府」官員的角色？
 (A)皮卡丘：「因為珍珠港事變攻擊我們在太平洋的軍事基地，我們正式對日宣戰。」
 (B)噴火龍：「我們利用對外戰爭壯大了勢力，最後終於取得中國的政權。」
 (C)鯉魚王：「這次戰爭使我們控制東亞的梦想破滅，傷亡慘重，最後宣布投降。」
 (D)伊布：「這戰爭使我們與各國另訂平等新約，解脫百年來不平等條約的束縛。」

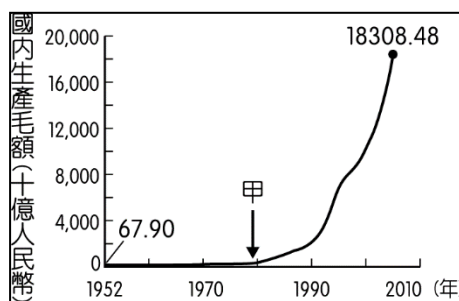
10. (B) 【圖一】是參考某段期間中國人口死亡率估算值而繪製的曲線圖，【圖一】中甲、乙二點之間死亡率的變化，最可能與下列何者有關？
 (A)人民響應抗美援朝，參與韓戰而造成傷亡慘重
 (B)大躍進運動期間，政策失當所導致的嚴重饑荒
 (C)文化大革命時，紅衛兵鬥爭造成眾多人口死亡
 (D)六四天安門事件爆發，政府鎮壓大量抗議群眾
11. (B) 【圖二】呈現的是某地不同時期統治者的演變情況，此地最可能是下列何者？
 (A)琉球 (B)香港 (C)澳門 (D)臺灣。
12. (D)1989年中國某報紙的一篇報導指出，北京大學的學生在一場悼念胡耀邦的運動中，提出以民主方式選舉部分領導人的主張，為了迫使政府正視他們的訴求，學生們展開大規模的遊行與示威抗議活動，後來政府派遣軍隊、坦克車前往鎮壓。請問當時所報導的是什麼事件？
 (A)改革開放 (B)大躍進 (C)文化大革命 (D)六四天安門事件。
13. (C)英國首相帕默斯頓曾說，對大英帝國而言，沒有永遠的朋友也沒有永遠的敵人，對大英帝國永遠不變的只有利益。就國際關係而言，朋友跟敵人是會變的。請問以下哪一個國家在二戰時是美國的盟友，二戰後卻成了美國的敵人？(A)英國 (B)日本 (C)蘇聯 (D)法國。
14. (B) 【圖三】呈現中國 1952 年至 2005 年國內生產毛額的數據資料。【圖三】中曲線從甲處後有明顯變動的情況，最可能與何者有關？
 (A)大躍進提倡生產，民眾全力煉鋼
 (B)實施改革開放政策，引進外來資金
 (C)利用韓戰爆發契機，提高進口關稅
 (D)發動文化大革命，進行全面改造。
15. (A) 【圖四】是 1950 年代某國際戰爭的文宣海報，圖中表達中國人民解放軍擊敗以美軍為首的聯合國部隊。這場戰爭雖然是區域性的南北戰爭，但背地則是兩大國際陣營的角力戰。請問：上述戰爭地點位於今日何處呢？(A)朝鮮半島 (B)越南 (C)金門 (D)日本。



【圖一】



【圖二】



【圖三】



【圖四】