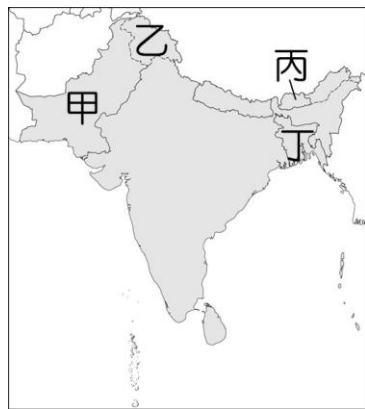


台北市立木柵國中 111 學年度 第二學期 地理科
八年級 補考試題(題庫)

一、選擇：

- ()阿祥要撰寫宗教研究報告，其研究主題是：「伊斯蘭文化的發展」。若他想要在網路中搜尋前人的研究做參考，下列哪一關鍵字無法找到相關資料？ (A) 人人平等 (B) 穆斯林 (C) 阿拉伯半島 (D) 萬塔之城。
- ()下列何者為南亞印度教文化在東南亞留下的文化景觀？ (A) 柬埔寨的吳哥窟 (B) 菲律賓的聖嬰大教堂 (C) 緬甸蒲甘的寺廟 (D) 越南河內的孔廟。

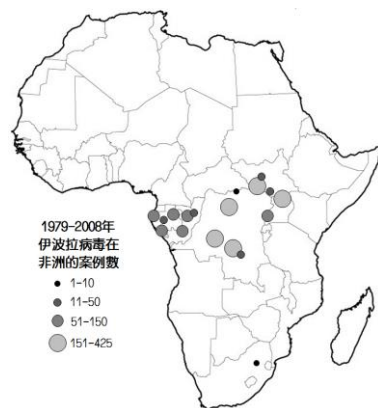
- ()南亞溫暖多雨的氣候有利於農業的發展，適合多種類的農作物種植。請問：附圖中何處最有可能是糧食作物稻米的主要產地？ (A) 甲 (B) 乙 (C) 丙 (D) 丁。



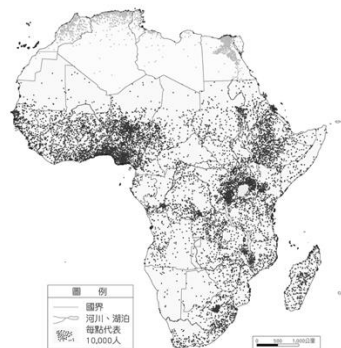
- ()附表是巴基斯坦與孟加拉的比較，哪一項完全正確？ (A) 甲 (B) 乙 (C) 丙 (D) 丁。

國名	巴基斯坦	孟加拉
(甲)位置	恆河流域	印度河流域
(乙)地形	高原	丘陵
(丙)氣候	乾熱	溼熱
(丁)宗教	印度教	伊斯蘭教

- ()伊波拉病毒最早被發現於西元 1976 年，根據統計，此種疾病的致死率高達 50% 以上。附圖是西元 1979~2008 年伊波拉病毒盛行的地區及案例數，依據圖中分布區判斷，該病毒早期盛行的地區具有下列何種氣候特徵？ (A) 乾熱 (B) 乾冷 (C) 溼熱 (D) 溼冷。



- ()附圖為漠南非洲人口分布圖，請根據此圖判斷，非洲人口密度最低的地方，最有可能出現何種特色？ (A) 植被景觀茂密 (B) 海拔高度極高 (C) 氣候乾燥少雨 (D) 內外戰爭頻繁。



- ()張老師參加「東非十日遊」的活動。請問：她最可能在當地拍下什麼樣的照片？ (A) 野生動物在草地生活的情景 (B) 摩洛哥的宏偉清真寺 (C) 迦納可可農場的收成景況 (D) 慶伯利礦坑礦工的工作實景。
- ()漠南非洲地形複雜，其地形構成主體主要為哪一種地形？ (A) 盆地 (B) 山地 (C) 高原 (D) 平原。
- ()歷史學家希羅多德曾說：「埃及是尼羅河的贈禮。」可知古埃及文明的建立與尼羅河的氾濫息息相關。請問：早期尼羅河定期氾濫的季節為何？ (A) 春季 (B) 夏季 (C) 秋季 (D) 冬季。
- ()西元 2011 年在中國舉行的經濟峰會，邀請了非洲目前工業發展最強國家加入，並與巴西，印度和俄羅斯共同組成「金磚五國」(BRICS)。此五國占全球人口 43%，占全球貿易額 17%；用購買力平價衡量，占全球 GDP 25%，顯示金磚國家將成為影響世界經濟的重要新興力量。請問：非洲的金磚國應是指下列哪一個國家？ (A) 埃及 (B) 象牙海岸 (C) 南非 (D) 衣索比亞。
- ()庫德族(The Kurds)主要散居兩河流域上游，在土耳其、敘利亞、伊朗及伊拉克等國交界山區活動的民族(如附圖深色區域)，他們是世界上自認「沒有自己國家」的族群中，人數最多的民族。由於此區域資源豐富，現居國為了自身利益，都不樂意見到庫德族合併獨立。庫德族分布地區，應以下列哪一項天然資源最具重要性？ (A) 石油 (B) 鐵礦 (C) 煤礦 (D) 銅礦。



- ()石油輸出國家組織(OPEC)主要是透過下列何種方式，逐漸奪回掌握在西方國家的石油利益主導權？ (A) 發現石油運輸航線 (B) 擁有多數煉油工廠 (C) 掌握地質鑽探技術 (D) 控制各國石油產量。
- ()小乖到西亞地區旅遊，記錄了以下四項見聞。請問：西亞地區可見的景觀中，何者與當地的「游牧生活」關係最密切？ (A) 圓頂清真寺眾多 (B) 居民多穿寬鬆長袍 (C) 看見許多高於房子的通風塔 (D) 駱駝是傳統重要的交通工具。
- ()饑荒問題除了先天自然環境影響外，後天的人為活動也會導致該問題的惡化。漠南非洲除了人口過多導致糧食不足外，還與該地發展哪一種產業有關？ (A) 熱帶栽培業 (B) 地中海型農業 (C) 游耕農業 (D) 生態觀光產業。
- ()伊朗高原沙漠中的居民，利用地下自然湧出的泉水或人工挖掘的地下渠道進行農耕。請問：下列中國的地理區中，何者也以此種農業著稱？ (A) 柴達木盆地 (B) 吐魯番窪地 (C) 青海湖盆地 (D) 四川盆地。

解答:

1	2	3	4	5
D	A	D	C	C
6	7	8	9	10
C	A	C	B	C
11	12	13	14	15
A	D	D	A	B